

Herzlich Willkommen zur 5.Int.ACS Gaudi-Rallye!

Am Anfang möchten wir Euch auf ein paar Punkte aufmerksam machen, die zu beachten sind !

1. Die Fahrtzeit spielt keine Rolle. Ihr könnt Euch also ruhig zeitlassen !
Es ist jedoch eine Schlußzeit von 18⁰⁰ Uhr festgelegt !
2. Für die Lösungen der jeweiligen Fragen ist auf dem Blatt eine entsprechende Spalte markiert .
3. Doppelte, fehlende oder falsche Antworten werden jeweils mit Null Punkten bewertet !

Ein kleiner Tip noch :

Es ist vielleicht ein Vorteil wenn Ihr etwas voraus -
schauend lest, um größere Irrfahrten zu vermeiden !

Bon Voyage !!

Die Fahrtleitung

0130-7767
040-418480

Der erste Anlaufpunkt der Gaudi-Rallye ist Oberasbach. Im Ortsteil Unterasbach findet Ihr einen Trimm-Dich-Pfad. Wie lang ist eine Runde?

.....m

Achtung schlaue Köpfe! Welche Firma baute das Auto, dem man den Namen "Kommißbrot" gab?

.....

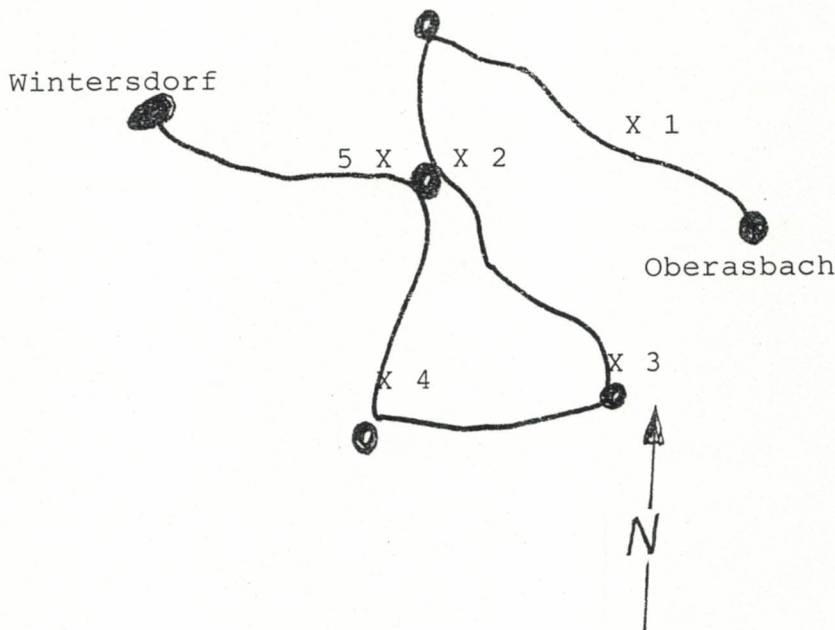
Euer nächstes Ziel ist der DB-Haltepunkt Oberasbach. Notiert Euch bitte die Abfahrtszeit von Zug Nr.4361 und die Fahrzeit zum Nürnberger Hauptbahnhof.

.....Uhr/.....mi

Eine Elektrolock fährt von Norden nach Süden. Der Wind kommt von Süden. Wohin weht der Rauch?

.....

Von Oberasbach aus fahrt Ihr nach der abgedruckten Karte weiter.



An Punkt 1) stht ein Strommast. Welche Nr und welches Baujahr könnt Ihr dem Typenschild entnehmen?

Nr.:...../.....

An Punkt 2) befindet sich ein Briefkasten. Wann wird er das nächste Mal geleert?

.....Uhr

Eine Brücke überquert Ihr an Punkt 3). Aus wievielen Rohren besteht ein Brückengeländer?

.....Rohre

Achtung ! Was ist ein "Pinus silvestris" ?

.....

Von Punkt 4) aus könntet Ihr auch mit dem Bus weiterfahren. Welche Buslinie bedient diese Haltestelle?

Linie

Auf euerem weiteren Weg nach Wintersdorf sind einige an der Fahrtstrecke liegende Seitenstraßen nach Bäumen benannt. Notiert bitte vier dieser Baumnamen.

.....

.....

.....

So, jetzt habt Ihl es fast übelstanden. Bevol Ihl zum Ziel nach Gutzbelg fahlt, müßt Ihl nul noch die auf del folgenden Seite abgedluckte Chinesenlallye durchfahlen und uns dazu mehlele Flagen beantwolten.

Ab welchem Gewicht ist die Straße in Feld 4 gesperrt?

Bei Punkt 5 steht ein Turm. Wozu dient dieser?

Bei 6 steht ein Wegweiser; wie weit ist es von hier nach Roßtal?

Achtung schlaue Köpfe: Was ist ein "Petroselinum crispum"?

Zwischen Zeichen 7 und 8 könnt Ihr mehrere Jägerstände sehen. Wieviele Sprossen besitzt die Leiter des dritten Jägerstandes?




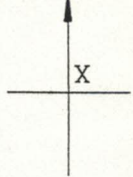
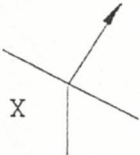
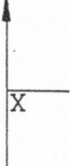




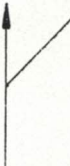
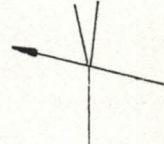



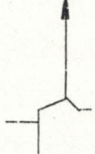

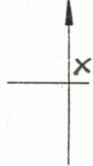

Zwischen Zeichen 12 und 13 sind auf der linken Straßenseite neue Bäume angepflanzt. Wieviele Bäume sind es?

Was maant ern nou, wos er Hocklkeezn is?

Bei Zeichen 18 steht ein steinerner Wegweiser. Welche Ortschaften könnt Ihr darauf erkennen?

.....t
.....
.....km
.....
.....Sprossen
.....Stück
.....
.....
.....

C H I N E S E N R A L L Y E

 <p>Wimpats- hof</p> <p>1</p>	 <p>2</p>	 <p>3</p>	 <p>4</p>
 <p>X</p> <p>5</p>	 <p>X</p> <p>6</p>	 <p>7</p>	 <p>8</p>
 <p>9</p>	 <p>10</p>	 <p>11</p>	 <p>12</p>
 <p>13</p>	 <p>14</p>	 <p>15</p>	 <p>16</p>
 <p>17</p>	 <p>X</p> <p>18</p>	 <p>X Ziel</p> <p>19</p>	

Jeder Strich ist eine Straße. Feldwege und Hofeinfahrten sind nicht zu berücksichtigen. Der Anschluß zum vorherigen Feld ist immer unten.